

SORU BANKASI

COĞRAFYA

9.
SINIF



Periskop
yayınları



YENİ
MÜFREDATA
UYGUN



Helen
Akademi

ile



GÖRÜNTÜLÜ - VİDEOLU
KONU ANLATIMI



VIDEO
ÇÖZÜMLÜ



YENİ NESİL
SORULAR



SARMAL
TESTLER

SORU BANKASI

9.
SINIF

COĞRAFYA

Genel Yayın Yönetmeni
Yasemin Meyva

Editör
Serdar Özel

Tasarım
Pınar İlhan

Grafik - Dizgi
Periskop Dizgi Servisi

PRİZMA PRESS Matbaacılık
Sertifika No.: 44 996



ile



"Dünyada her şey için, medeniyet için,
hayat için başarı için
en gerçek yol gösterici ilimdir, fendir."

K. Atatürk





İÇİNDEKİLER

1. ÜNİTE: COĞRAFYANIN DOĞASI

Coğrafya Biliminin Konusu ve Bölümleri

1. TEST (Öğreten Test)7
2. TEST (Öğreten Test)9
3. TEST (Öğreten Test)11

Niçin Coğrafya Öğrenmeliyiz? - Coğrafya Biliminin

Gelişimi

4. TEST (Pekiştiren Test)13
5. TEST (Pekiştiren Test)15
6. TEST (Sınav Tadında Test)17

2. ÜNİTE: MEKANSAL BİLGİ TEKNOLOJİLERİ

Haritalar Nasıl Okunur?

7. TEST (Öğreten Test)19
8. TEST (Öğreten Test)21
9. TEST (Öğreten Test)23

Haritalar Nasıl Okunur? - Ölçek

10. TEST (Pekiştiren Test)25
11. TEST (Pekiştiren Test)27
12. TEST (Sınav Tadında Test)29
13. TEST (Öğreten Test)31
14. TEST (Öğreten Test)33

Haritalarda Dağılımları Gösterme Yöntemleri

15. TEST (Öğreten Test)35
16. TEST (Pekiştiren Test)37
17. TEST (Pekiştiren Test)39

Türkiye'nin Coğrafi Konumu

18. TEST (Sınav Tadında Test)41

3. ÜNİTE: DOĞAL SİSTEMLER VE SÜREÇLER

Hava Durumu - İklim - Atmosfer ve Sıcaklık

19. TEST (Öğreten Test)43
20. TEST (Öğreten Test)45
21. TEST (Öğreten Test)47
22. TEST (Pekiştiren Test)49
23. TEST (Pekiştiren Test)51

Basınç ve Rüzgârlar

24. TEST (Öğreten Test)53
25. TEST (Öğreten Test)55
26. TEST (Öğreten Test)57
27. TEST (Pekiştiren Test)59
28. TEST (Pekiştiren Test)61

Nem ve Yağış

29. TEST (Öğreten Test)63
30. TEST (Öğreten Test)65
31. TEST (Öğreten Test)67
32. TEST (Pekiştiren Test)69
33. TEST (Pekiştiren Test)71

İklim Tipleri

34. TEST (Öğreten Test)73
35. TEST (Öğreten Test)75
36. TEST (Öğreten Test)77
37. TEST (Pekiştiren Test)79
38. TEST (Pekiştiren Test)81

Türkiye'nin İklimi ve İklim Sisteminde Yaşanan

Değişiklikler

39. TEST (Öğreten Test)83
40. TEST (Öğreten Test)85

İÇİNDEKİLER

41. TEST (Öğreten Test)	87
42. TEST (Pekiştiren Test)	89
43. TEST (Pekiştiren Test)	91

4. ÜNİTE: BEŞERİ SİSTEMLER VE SÜREÇLER

Nüfusun Tarihsel Değişimi ve Geleceği

44. TEST (Öğreten Test)	93
45. TEST (Öğreten Test)	95
46. TEST (Pekiştiren Test)	97

Nüfusun Dağılışı ve Hareketleri

47. TEST (Öğreten Test)	99
-------------------------------	----

Nüfusun Demografik Dönüşüm Süreci ve Nüfus

Piramidi

48. TEST (Öğreten Test)	101
49. TEST (Öğreten Test)	103
50. TEST (Öğreten Test)	105
51. TEST (Öğreten Test)	107
52. TEST (Öğreten Test)	109

Nüfus Politikaları

53. TEST (Öğreten Test)	111
54. TEST (Öğreten Test)	113
55. TEST (Öğreten Test)	115
56. TEST (Pekiştiren Test)	117

5. ÜNİTE: EKONOMİK FAALİYETLER VE ETKİLERİ

Ekonomik Faaliyetleri Etkileyen Doğal ve Beşerî Faktörler

57. TEST (Öğreten Test)	119
58. TEST (Pekiştiren Test)	121

59. TEST (Pekiştiren Test)	123
----------------------------------	-----

6. ÜNİTE: AFETLER VE SÜRDÜRÜLEBİLİR ÇEVRE

Tehlike, Risk, Afet

60. TEST (Öğreten Test)	125
-------------------------------	-----

Afet Türleri

61. TEST (Öğreten Test)	127
62. TEST (Öğreten Test)	129
63. TEST (Pekiştiren Test)	131
64. TEST (Pekiştiren Test)	133
65. TEST (Sınav Tadında Test)	135
66. TEST (Sınav Tadında Test)	137

7. ÜNİTE: BÖLGELER, ÜLKELER ve KÜRESEL BAĞLANTILAR

Bölge Belirleme Kriterleri ve Bölge Türleri

67. TEST (Öğreten Test)	139
68. TEST (Öğreten Test)	141

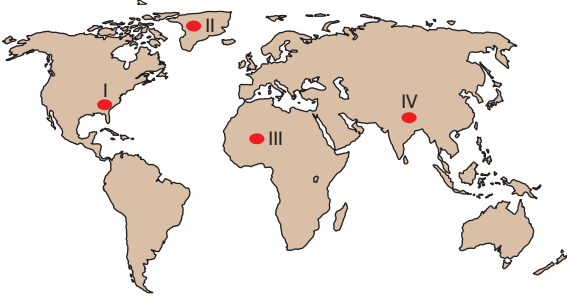
Coğrafya Biliminin Konusu ve Bölümleri

1. Fiziki coğrafya, yeryüzünde gerçekleşen çeşitli doğa olaylarının oluşum nedenlerini, oluşum süreçlerini, insanla doğa arasındaki karşılıklı etkileşimleri ve yerküre üzerindeki dağılışlarını inceler.

Aşağıdakilerden hangisi fiziki coğrafyanın inceleme alanına girmez?

- A) Maki bitki örtüsünün dağılışı
B) Tropikal bölgede görülen iklimler
C) Dünya'daki tatlı su kaynaklarının dağılışı
D) Deprem bölgeleri ile fay kaynaklarının ilişkisi
E) Dünya'da demir yolu ulaşımının dağılışı

2. Nüfus ve yerleşmenin yoğun olduğu bölgelerde beşerî coğrafyanın konu dallarına ait özelliklere yaygın olarak rastlanmaktadır.



Buna göre haritada verilen bölgelerden hangilerinde beşerî coğrafyanın konu dallarına ait özelliklere yaygın olarak rastlanmaktadır?

- A) I ve II
B) II ve III
C) I ve III
D) I ve IV
E) III ve IV

3. Basında yer alan haberlere göre İzlanda Meteoroloji Birimi, başkent Reykjavik'e 32 kilometre uzaklıkta bulunan Fagradalsfjall Dağı yakınlarında patlama meydana geldiğini açıkladı. Lav akıntılarının görüldüğü bölgede yaklaşık 400'e yakın deprem kaydedildi.

Yukarıda anlatılan olayın oluşumu aşağıdaki fiziki coğrafyanın alt dallarından hangisiyle ilgilidir?

- A) Klimatoloji
B) Jeomorfoloji
C) Kartografya
D) Hidrografya
E) Biyocoğrafya

4. Oluşumunda insan emeği ve çalışmasının etkisinin olmadığı, doğal süreçler içerisinde meydana gelen unsurlara fiziki unsur denir.

Buna göre aşağıdakilerden hangisi fiziki unsura örnektir?

- A) Chitzen İtza Piramidi
B) Kolezyum
C) Pamukkale Travertenleri
D) Ayasofya Camisi
E) Topkapı Sarayı

5. Gelişmemiş ülkelerde doğanın insan üzerindeki etkisi daha fazladır.

- I. Nijer
II. Çad
III. İngiltere
IV. Fransa

Buna göre yukarıda verilen ülkelerden hangilerinde doğanın insan üzerindeki etkisi daha fazladır?

- A) I ve II
B) II ve III
C) I ve III
D) I ve IV
E) III ve IV

6. • Ekvatorial bölgede görülen bitkiler
• İsveç'te bulunan buzul gölleri
• Çöl ikliminin görüldüğü ülkeler
• Alp – Himalaya Deprem Kuşağı'nda bulunan ülkeler

Yukarıda verilen olaylar sırasıyla aşağıda verilen coğrafyaya ait bilim dallarından hangilerinin inceleme alanına aittir?

- A) Biyocoğrafya - Jeomorfoloji - Klimatoloji - Hidrografya
B) Biyocoğrafya - Hidrografya - Klimatoloji - Jeomorfoloji
C) Hidrografya - Biyocoğrafya - Klimatoloji - Jeomorfoloji
D) Klimatoloji - Jeomorfoloji - Hidrografya - Biyocoğrafya
E) Jeomorfoloji - Klimatoloji - Biyocoğrafya - Hidrografya

1. Test

7. Denize kıyısı olmayan Özbekistan'da karasal iklim görülmektedir. Ülkenin kuzeyinde sıcaklık değerleri düşükken güneyine doğru gidildikçe sıcaklık yükselmektedir. Yaz ayları sıcak ve kurak, kış ayları sert ve soğuktur. Yıllık yağış miktarının 200 – 300 mm olduğu ülkede kerpiç evler görülmektedir.

Buna göre Özbekistan'da kerpiç evlerin görülmesinde aşağıdakilerden hangisinin etkisi bulunmaktadır?

- A) Yer şekilleri B) Mutlak konum C) İklim
D) Jeolojik özellikleri E) Yer çekimi

8. Fiziki coğrafyanın alt dallarından birisi jeomorfolojidir.

Aşağıdakilerden hangisi jeomorfolojinin incelediği konulardan birisi değildir?

- A) Tropikal fırtınaların etkili olduğu ülkeler
B) Türkiye'de deprem riskinin fazla olduğu bölgeler
C) Dünyada volkanik arazilerin dağılışı
D) Tsunami tehlikesinin fazla olduğu bölgeler
E) Akdeniz Bölgesi'nde karstik mağaraların bulunduğu bölgeler

9. Volkanik patlama sırasında havaya karbondioksit ve sülfür dioksit gibi çeşitli gazlar yayılır.

- I. Litosfer
II. Hidrosfer
III. Atmosfer
IV. Biyosfer

Buna göre parçada anlatılan olay yukarıda verilenlerden hangilerinin etkileşimine örnektir?

- A) I ve II B) II ve III C) I ve III
D) I ve IV E) III ve IV

10. Coğrafya doğa ile insan arasındaki etkileşimi inceleyen bilim dalıdır.

- I. Tropikal bölgelerdeki flora ve faunanın dağılışı
II. Kuzey Pasifik Dev Ahtapotu'nun anatomisi
III. Kaldera göllerinin oluşumu

Buna göre yukarıda verilenlerden hangileri coğrafyanın araştırma alanına girer?

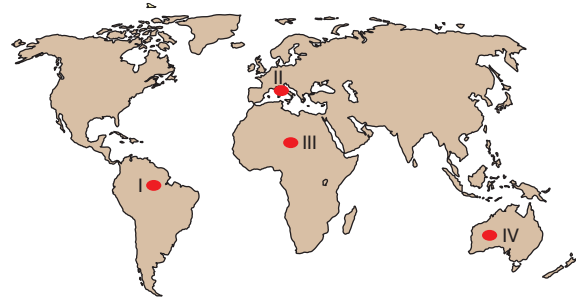
- A) Yalnız I B) Yalnız II C) I ve III
D) II ve III E) I, II ve III

11. İnsan faaliyetlerini inceleyen beşerî coğrafya farklı alt bölümlere ayrılmaktadır.

Buna göre aşağıdakilerden hangisi beşerî coğrafyanın inceleme alanında değildir?

- A) Kuzey Amerika Kıtası'ndaki kara yollarının dağılımı
B) Türkiye'de delta ovalarında yetiştirilen tarım ürünleri
C) Avustralya'da nüfus yoğunluğunun az olduğu bölgeler
D) Sıcaklık ve yağışın biyoçeşitliliğe olan etkisi
E) Termal turizm bölgelerinin dağılışı

12. Benzer iklimlerin yaşandığı bölgelerde benzer doğal unsurlara rastlamak mümkündür.

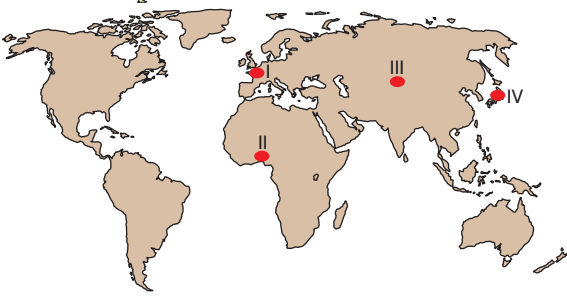


Buna göre haritada verilen bölgelerden hangilerinde benzer doğal unsurlara rastlamak mümkündür?

- A) I ve II B) II ve III C) I ve III
D) I ve IV E) III ve IV

Coğrafya Biliminin Konusu ve Bölümleri

1. Ülkelerin gelişmişlik seviyesiyle doğadan faydalanmaları arasında ilişki bulunmaktadır. Gelişmiş ülkeler madenler, ormanlar gibi doğal kaynakları verimli şekilde kullanıp işletmektedir.



Buna göre yukarıda verilen ülkelerden hangileri bu ülkelere örnek gösterilebilir?

- A) I ve II B) II ve III C) I ve III
D) I ve IV E) III ve IV

2. Beşerî çevre insan faaliyetleri sonucunda oluşan unsurlardan meydana gelmektedir.

Aşağıdakilerden hangisi beşerî unsurlara örnek verilebilir?

- A) Volkanik dağlar
B) Viyadükler
C) Güneş
D) Yıldırım
E) Okyanus

3. Coğrafyanın alt dalları içerisinde iklim olaylarıyla ilgilenen bilim dalı klimatolojidir.

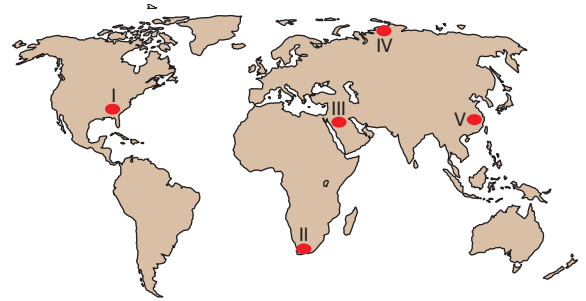
Aşağıdakilerden hangisi klimatolojinin inceleme alanına girmez?

- A) Trabzon'un yıllık aldığı yağış miktarı
B) Erzurum'da donlu gün sayısı
C) Gelişmemiş ülkelerdeki doğum oranları
D) Muğla'nın yıllık güneşlenme süresi
E) Kars'ın yıllık sıcaklık farkı

4. Aşağıdakilerden hangisi doğal unsurların beşerî faaliyetlere etkisine örnek gösterilemez?

- A) Çöl bölgesinde yaşayan insanların beyaz kıyafetleri tercih etmesi
B) Yer şekillerinin engebeli olduğu bölgelerde viyadük ve tünellerin kullanılması
C) Ilıman iklim kuşağında farklı tarım ürünlerinin yetiştirilmesi
D) Farklı jeolojik zamanlara ait araziye sahip olan ülkelerde maden çeşitliliğinin fazla olması
E) Sanayileşmiş ülkelerde enerji tüketim oranlarının yüksek olması

5. Yıllık sıcaklık ortalamasının 0 °C'nin altında olduğu bölgelerde yıl içerisinde kalın kıyafet kullanım oranı daha fazladır.



Buna göre yukarıda verilen bölgelerden hangisinde yıl içerisinde kalın kıyafet kullanım oranı daha fazladır?

- A) I B) II C) III D) IV E) V

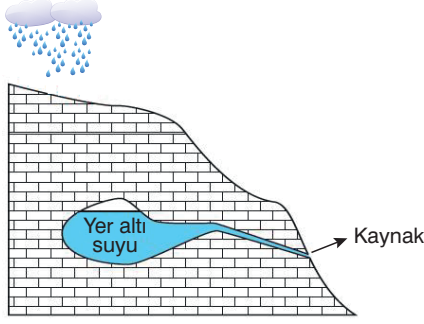
6. Yıllık yağış miktarının yüksek olduğu ve yer şekillerinin engebeli olduğu bölgelerin hidroelektrik enerjisi üretimi fazladır.

- I. Atmosfer
II. Biosfer
III. Litosfer
IV. Termosfer

Parçadaki bilgiye göre hidroelektrik enerjisi üretiminde yukarıdaki ortamlardan hangileri kullanılmaktadır?

- A) I ve II B) II ve III C) I ve III
D) I ve IV E) III ve IV

7.



- I. Hidroloji
- II. Jeoloji
- III. Zooloji
- IV. Kartografya

Görseldeki kaynak ile ilgili bilgi toplamak isteyen bir kişi yukarıda verilen fiziki coğrafyanın alt dallarından hangilerinden yararlanmalıdır?

- A) I ve II
- B) II ve III
- C) I ve III
- D) I ve IV
- E) III ve IV

8. Gelişmemiş ülkelerde tarım üretiminde doğal koşullara bağlılık fazladır.

Buna göre aşağıdaki ülkelerden hangisinde doğal koşullara bağlılık daha fazladır?

- A) İspanya
- B) Belçika
- C) Danimarka
- D) Almanya
- E) Çad

9. Yıllık yağış miktarının 200 mm altında olan bölgeler çöl bölgesi olarak değerlendirilir. Yağış miktarının az olması yer altı ve yer üstü su miktarının az olmasına sebep olmaktadır.

Buna göre parçadaki bilgi aşağıdaki doğal ortamlardan hangilerinin etkileşimine örnektir?

- A) Atmosfer – Litosfer
- B) Litosfer – Hidrosfer
- C) Biyosfer – Litosfer
- D) Atmosfer – Hidrosfer
- E) Hidrosfer - Biyosfer

10. Fiziki faktörler içerisinde yerleşmeyi en çok etkileyen unsurlardan birisi iklimdir. İlman iklim koşullarının olduğu ve yıl içinde farklı iklimlerin görüldüğü bölgelerde yerleşme fazladır.



Buna göre haritada gösterilen bölgelerden hangilerinde yukarıdaki sebebe bağlı olarak yerleşme fazladır?

- A) I ve II
- B) II ve III
- C) I ve III
- D) I ve IV
- E) III ve IV

11. Atmosfer, litosfer, hidrosfer ve biyosfer doğal ortamı oluşturmaktadır.

Buna göre aşağıdakilerden hangisi doğal ortam içerisinde yer almaz?

- A) İnşaat
- B) Dağ
- C) Yer altı suyu
- D) Maki
- E) Hava

12. Kongo Havzası'nda mesken yapımında kullanılan malzemeler ile Orta Asya'da mesken yapımında kullanılan malzemeler arasında farklılık görülmektedir.

Parçada anlatılan farklılığın temel sebebi aşağıdakilerden hangisidir?

- A) Bölgelerin enlem derecelerinin farklı olması
- B) Bölgelerin doğal ortam koşullarının farklı olması
- C) İki bölge arasında kültürel farklılıkların olması
- D) Orta Asya'nın Kuzey Yarımküre'de yer alması
- E) Kongo Havzası'nın Afrika Kıtası'nda yer alması

Coğrafya Biliminin Konusu ve Bölümleri

1. Türkiye'nin en genç volkanlarından biri olan Kula volkanlarının çevresindeki doğal bitki örtüsünü inceleyen bir araştırmacı bölgede bitki örtüsü gelişiminin az olduğunu tespit etmiştir.

Buna göre bölgeyi araştıran kişi aşağıdaki bilim dallarının hangisinden daha çok yararlanmışır?

- A) Klimatoloji
B) Limnoloji
C) Biyocoğrafya
D) Meteoroloji
E) Jeomorfoloji

2. Gelişmiş ülkelerde yerleşmenin yoğun olmasında beşeri unsurların etkisi daha fazladır.



Buna göre haritada verilen bölgelerden hangilerinde yerleşmelerin yoğun olmasında beşeri unsurların etkisi daha fazladır?

- A) I ve II
B) II ve III
C) I ve III
D) I ve IV
E) III ve IV

3. • Kayseri'nin yıl içerisinde aldığı yağış miktarı
• Rize'nin yıllık güneşlenme süresi
• İstanbul'da sıcaklığı düşüren yerel rüzgârlar

Buna göre yukarıda verilenleri aşağıdaki fiziki coğrafyanın alt dallarından hangisi inceler?

- A) Jeomorfoloji
B) Klimatoloji
C) Biyocoğrafya
D) Hidrografya
E) Kartografya

4. Geçmişte Karadeniz'de bir koy olan Durusu Gölü zamanla dalga biriktirmesiyle oluşan kumsal sayesinde denizden ayrılarak göle dönüşmüştür. Kayık ile göl üzerinde tur atıldığında nilüfer çiçekleri ve turna balıklarına rastlamak mümkündür.

- I. Limnoloji
II. Potamoloji
III. Zooloji
IV. Botanik
V. Oseonografya

Parçada fiziki coğrafyanın alt dallarından hangileri hakkında bilgi elde edilemez?

- A) I ve III
B) II ve IV
C) III ve IV
D) II ve V
E) III ve V

5. Doğayı oluşturan unsurlar birbirleriyle etkileşim içerisindedir.

Aşağıdakilerden hangisinde atmosferin litosfere etkisi bulunmaktadır?

- A) Günlük sıcaklık farkının fazla olduğu bölgelerde kayaçların fiziksel ufalanması
B) Yağış miktarının yüksek olduğu bölgelerde yer altı su miktarının fazla olması
C) Deprem riskinin yüksek olduğu bölgelerde sıcak su kaynaklarının fazla olması
D) Orman bitki örtüsünün görüldüğü bölgelerde ahşap meskenlerin yaygın olması
E) Eğimli arazilerde hidroelektrik potansiyelinin fazla olması

6. • Nevşehir çevresinde peribacalarının oluşumu
• Mersin çevresinde karstik mağaraların oluşumu
• Konya çevresinde obrukların oluşumu

Buna göre yukarıda verilenleri aşağıdaki fiziki coğrafyanın alt dallarından hangisi inceler?

- A) Meteoroloji
B) Limnoloji
C) Biyocoğrafya
D) Potamoloji
E) Jeomorfoloji

3. Test

7. • İsviçre’de köprü ve viyadüklerin yaygın olması
• Almanya’da deniz yolu ulaşımında kanalların kullanılması
• Kuzey Amerika Kıtası ile Batı Avrupa arasında hava yolu ulaşımının yaygın olması

Buna göre yukarıda verilenleri aşağıdaki beşerî coğrafyanın alt dallarından hangisi inceler?

- A) Tarım coğrafyası B) Sanayi coğrafyası
C) Ulaşım coğrafyası D) Siyasal coğrafya
E) Turizm coğrafyası

8. Doğal çevreyi oluşturan unsurlar insanların günlük yaşantısı üzerinde etkili olmaktadır.
- Muson ikliminin görüldüğü Çin’de pirinç tüketiminin yaygın olması
 - Batı Avrupa’da kara yolu ulaşımının yaygın olması
 - ABD’de hamburger tüketiminin fazla olması
 - Kanada’nın kuzeyine gittikçe nüfus yoğunluğunun azalması

Buna göre yukarıda verilenlerden hangilerinde doğal çevreyi oluşturan unsurlar insanların günlük yaşantısı üzerinde etkili olmaktadır?

- A) I ve II B) II ve III C) I ve III
D) I ve IV E) III ve IV

9. Sera Gölü 21 Şubat 1950 tarihinde Derecik Vadisi’nden kopan kayaçların vadi tabanını tıkaması ile oluşmuştur.
- Atmosfer
 - Litosfer
 - Hidrosfer
 - Biyosfer

Buna göre parçada anlatılan durum yukarıda verilen doğal ortamlardan hangilerinin etkileşimine örnektir?

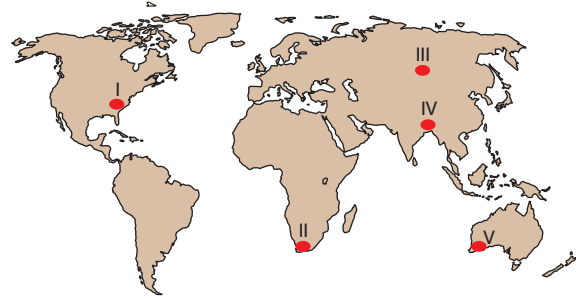
- A) I ve II B) II ve III C) I ve III
D) I ve IV E) III ve IV

10. Coğrafyanın ilkelerinden birisi neden–sonuç ilkesidir.

Aşağıdakilerden hangisi bu ilkeye örnek olarak gösterilebilir?

- A) Yıllık yağış miktarının yüksek olduğu bölgelerde çay tarımının yapılması
B) Nijerya’da doğum oranlarının fazla olması
C) İtalya’da zeytin üretiminin fazla olması
D) Türkiye’de batıdan doğuya doğru yükseltinin artması
E) Batı Avrupa’da nüfus yoğunluğunun fazla olması

11. Kış aylarının aşırı soğuk geçtiği bölgeler yerleşme için uygun değildir.



Buna göre haritada verilen bölgelerden hangisi yukarıdaki sebepten dolayı yerleşmeye uygun değildir?

- A) I B) II C) III D) IV E) V

12. Aşağıdakilerden hangisi klimatolojinin inceleme alanına girmektedir?

- A) ABD’nin batısında tektonik depremlerin görülmesi
B) Amazon Havzası’nda biyoçeşitliliğin fazla olması
C) Sibiry Bölgesi’nde yıllık sıcaklık farkının çok olması
D) Güneydoğu Asya’da nüfus yoğunluğunun fazla olması
E) Kanada’da buzul göllerine rastlanması

Niçin Coğrafya Öğrenmeliyiz? - Coğrafya Biliminin Gelişimi

1. • El-Kanun El-Maksudi eserini yazmıştır.
• Dünya ekseninin eğikliğini çok yakın bir sayı ile bulmuştur.
• Jeodezi biliminin kurucusu olarak bilinir.

Yukarıda bilgileri verilen ünlü bilim adamı kimdir?

- A) İbn Sina
B) Amasyalı Strabon
C) Piri Reis
D) Biruni
E) İbn Haldun

2. Coğrafyada yaşanan olaylar arasında ilişki bulunmaktadır. Örneğin Erzurum çevresinde çayır bitki örtüsü büyükbaş hayvancılığın gelişmesini sağlamıştır. Buna bağlı olarak et ve süt sanayisi gelişmiştir.

Yukarıdaki bilgide coğrafyanın hangi ilkesini açıklanmıştır?

- A) Nedensellik İlkesi
B) Dağılım İlkesi
C) Bağlantı İlkesi
D) Zaman Dağılımı
E) Yatay Dağılım

3. Türkiye’de kırsal bölgelerdeki mesken tiplerine bakıldığında kerpiç, taş ve ahşap meskenlerin görüldüğü söylenebilir.

Buna göre Türkiye’de kırsal bölgelerdeki meskenlerle ilgili olarak aşağıdakilerden hangisi söylenebilir?

- A) Ahşap evlere iç bölgelerde de rastlanmaktadır.
B) Taş evler sadece dağınık yerleşmelerde görülür.
C) Fiziki faktörlere bağlı olarak meskenlerin yapı malzemesi değişmektedir.
D) Bitki örtüsünün mesken yapımında etkisi yoktur.
E) Kentlerde de kerpiç evlere rastlanır.

4. **Aşağıdaki coğrafyanın yararlandığı bilim dalı ve ilgilendiği alan ile ilgili eşleştirmelerden hangisi yanlıştır?**

- | | |
|-----------------|--------------------------|
| A) Kartografya | Haritaları inceler. |
| B) Limnoloji | Gölleri inceler. |
| C) Potamoloji | Akarsuları inceler. |
| D) Jeomorfoloji | Yer şekillerini inceler. |
| E) Klimatoloji | Canlıları inceler. |

5. İnsan ile çevre arasındaki ilişkiyi inceleyen bilim dalı olan coğrafya temelde fiziki ve beşerî olmaz üzere ikiye ayrılmaktadır.

Aşağıdakilerden hangisi fiziki coğrafyanın alt dallarından biri değildir?

- | | |
|-----------------|----------------------|
| A) Klimatoloji | B) Jeomorfoloji |
| C) Biyocoğrafya | D) Turizm coğrafyası |
| E) Hidroğrafya | |

6. • En önemli eseri Kitab-ı Bahriye’dir.
• Ceylan derisi üzerine çizdiği dünya haritası meşhurdur.

Yukarıda bahsedilen ünlü denizci aşağıdakilerden hangisidir?

- A) Turgut Reis
B) Piri Reis
C) Barbaros Hayrettin Paşa
D) İbrahim Reis
E) Oruç Reis

7. Birçok bilim dalında olduğu gibi coğrafya bilminde de en önemli sorulardan bir tanesi “Neden, niçin, nasıl?” sorularıdır. Bu sorular yeni cevapların doğmasında, yeni cevaplar da yeni soruların türemesinde etkili olmaktadır.

Yukarıda coğrafyanın hangi ilkesinden bahsetmiştir?

- | | | |
|----------------|---------------|------------|
| A) Nedensellik | B) Bağlantı | C) Dağılım |
| D) Etkileşim | E) Süreklilik | |

4. Test

8. • En önemli eseri Mukaddime'dir.
• İnsanları yaşadıkları bölgenin fiziki şartlarının etkilediğini savunmuştur.

Yukarıda özellikleri verilen bilim adamı hangisidir?

- A) Muhittin Arabi B) Biruni C) İbn-i Haldun
D) Harezmi E) Piri Reis

9. 23 Ekim 2011 tarihinde Van'da meydana gelen 6,7 şiddetindeki depremde 604 kişi vefat etti, 4152 kişi yaralandı. Kuzey Anadolu Fay hattına bağlı meydana gelen deprem sonrasında bölgede artçı depremler de yaşandı.

Yukarıda anlatılan olay fiziki coğrafyanın alt dallarından hangisiyle ilgilidir?

- A) Klimatoloji B) Jeomorfoloji C) Demografi
D) Biyocoğrafya E) Hidroğrafya

10. Çevrenin insan yaşamına etkisini ve insanın doğal çevrede yaptığı değişiklikleri inceleyen coğrafyanın alt dalına beşerî coğrafya denir.

Buna göre beşerî coğrafyanın kurucusu aşağıdakilerden hangisidir?

- A) Alexander Von Humbolt
B) Karl Ritter
C) Kâtip Çelebi
D) Platon
E) Erastosthenes

11. Yapay çevre yapay unsurlardan oluşmaktadır.

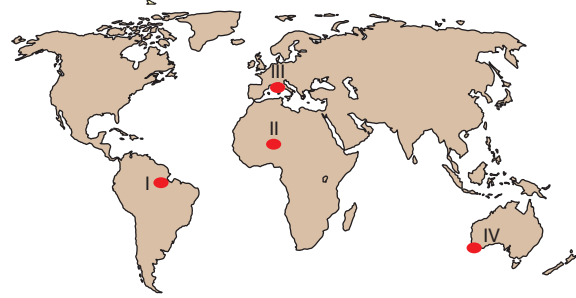
Aşağıdakilerden hangisi yapay unsurlara örnek verilmez?

- A) Viyadük B) Mesken C) Köprü
D) Plato E) Fabrika

12. Aşağıdakilerden hangisinde doğal unsurların etkili olduğu söylenemez?

- A) Fay kaynaklarının yoğun olduğu bölgelerde jeotermal tesislerin fazla olması
B) Karadeniz Bölgesi'nde ahşap meskenlerin yaygın olması
C) İstanbul ile Ankara arasında Yüksek Hızlı Tren (YHT) ile ulaşımın sağlanması
D) Aydın'da zeytin üretiminin fazla olması
E) Akdeniz kıyılarında güneşlenme süresine bağlı olarak deniz turizminin uzun sürmesi

13. Benzer iklimlerin yaşandığı bölgelerin ekonomik faaliyetleri birbirine benzemektedir.



Buna göre haritada verilen bölgelerden hangilerinde ekonomik faaliyetler birbirine benzemektedir?

- A) I ve II B) II ve III C) I ve III
D) I ve IV E) III ve IV

14. Basında yer alan haberlere göre İtalya Ulusal Jeofizik ve Volkanoloji Enstitüsü, ülkenin orta kesiminde 6,5 büyüklüğünde deprem meydana geldiğini açıkladı. Başkent Roma ve çevre kentlerde de hissedilen depremin merkez üssünün Perugia kenti olduğu belirtildi.

Buna göre yukarıda meydana gelen olan hangi seçenekteki doğal unsurla ilgilidir?

- A) Litosfer B) Atmosfer C) Biyosfer
D) Hidrosfer E) Troposfer

Niçin Coğrafya Öğrenmeliyiz? - Coğrafya Biliminin Gelişimi

1. Müsilaj, hemen hemen tüm bitkiler ve bazı mikroorganizmalar tarafından üretilen kalın, yapışkan bir maddedir. Deniz sıcaklığının yükselmesiyle artan bakteriler sonucunda meydana gelir. Bu durum denizlerde yaşayan canlılar için büyük tehdit oluşturmaktadır.

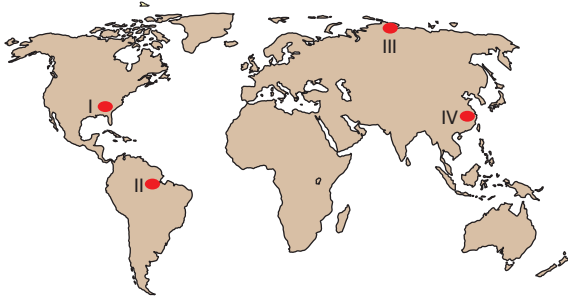
Yukarıda anlatılan olay hangi seçenekteki doğal unsurların arasındaki etkileşimle ilgilidir?

- A) Atmosfer – Litosfer
B) Hidrosfer – Litosfer
C) Atmosfer – Biyosfer
D) Hidrosfer – Biyosfer
E) Litosfer – Atmosfer

2. Aşağıdakilerden hangisi coğrafyanın konusu içinde yer almaz?

- A) Ormanların dağılışını etkileyen faktörler
B) Covid virüsünün insan fizyolojisine etkisi
C) Fay hatlarıyla termal kaynaklar arasındaki ilişki
D) Eksen eğikliğinin sonuçları
E) Tarım ürünleriyle iklim arasındaki ilişki

3. Nüfusun kalabalık olduğu bölgelerde doğal çevre üzerinde beşerî müdahaleler fazladır.



Buna göre yukarıda verilen bölgelerden hangilerinde doğal çevre üzerinde beşerî müdahaleler daha fazladır?

- A) I ve II
B) II ve III
C) I ve III
D) I ve IV
E) III ve IV

4. Yıllık yağış miktarının yüksek olduğu kırsal bölgelerde mesken yapımında ahşap malzemeler kullanılmaktadır.



Buna göre haritada verilen bölgelerden hangilerinde kırsal bölgelerde mesken yapımında ahşap malzemeler kullanılmaktadır?

- A) I ve II
B) II ve III
C) I ve III
D) I ve IV
E) III ve IV

5. Aşağıdakilerden hangisi doğal faktörlerin insanlara etkisine örnek gösterilmez?

- A) Günlük sıcaklık farkının yüksek olduğu bölgelerde kerpiç meskenlerin kullanılması
B) Düşük sıcaklığın görüldüğü bölgelerde kalın kıyafet satışlarının fazla olması
C) Sıcaklığın yüksek olduğu bölgelerde klima satışlarının fazla olması
D) Turizm bölgelerinde ulaşım faaliyetlerinin gelişmiş olması
E) Akdeniz ikliminin görüldüğü bölgelerde zeytinyağı sanayisinin yaygın olması

6. Dilovası ile Hersek Burnu arasında inşa edilen ve İzmit Körfezi'nin iki yakasını bağlayan Osmangazi Köprüsü'nün toplam uzunluğu 2682 metredir. 1.550 m orta açıklığıyla Dünya'da işletmeye açık olan en büyük orta açıklıklı asma köprüler sıralamasında 6. sırada yer almaktadır.

Buna göre yukarıdaki parça aşağıdaki beşerî coğrafyanın alt dallarından hangisiyle ilgilidir?

- A) Sağlık coğrafyası
B) Ulaşım coğrafyası
C) Kültür coğrafyası
D) Enerji coğrafyası
E) Nüfus coğrafyası